

【 1 】 次の史料と地図について問いに答えよ。

【資料活用の技能】

史料

サンフランシスコ講和条約

第二章 領域

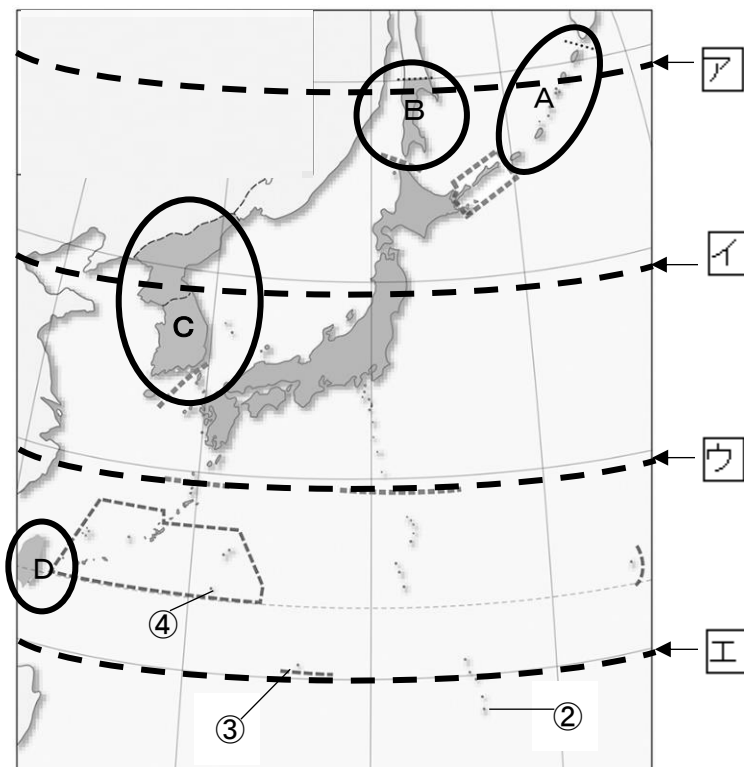
第二条

- (a) 日本国は、(甲) の独立を承認して、済州島、巨文島及び鬱陵島を含む朝鮮に対するすべての権利、権原及び請求権を放棄する。
- (b) 日本国は、台湾及び澎湖諸島に対するすべての権利、権原及び請求権を放棄する。
- (c) 日本国は、(乙) 並びに日本国が千九百五年九月五日の(丙) 条約の結果として主権を獲得した樺太の一部及びこれに近接する諸島に対するすべての権利、権原及び請求権を放棄する。

第三条

日本国は、a 北緯二十九度以南の南西諸島（琉球諸島及び大東諸島を含む）、嬌婦岩の南の南方諸島（小笠原群島、西之島及び火山列島を含む）並びに b 沖ノ鳥島及び南鳥島 を合衆国を唯一の施政権者とする信託統治制度の下におくこととする国際連合に対する合衆国のいかなる提案にも同意する。このような提案が行われ且つ可決されるまで、c 合衆国は、領水を含むこれらの諸島の領域及び住民に対して、行政、立法及び司法上の権力の全部及び一部を行使する権利を有するものとする。

地図



- 問1 この条約について説明した文章から正しいものを選び、記号で答えよ。
 ア. インドやビルマは会議に出席したが、調印はしなかった。
 イ. ソ連は条約案への不満から出席しなかった。
 ウ. 中国からは、中華人民共和国が招かれた。
 エ. 中華民国とは、この翌年に日華平和条約を結んだ。
- 問2 この条約が調印された年を答えよ。
- 問3 この条約に調印した、当時の首相を答えよ。
- 問4 (甲)(乙)の地域を、地図中A~Dから選び、それぞれ記号で答えよ。
- 問5 (丙)にあてはまる語句を答えよ。
- 問6 下線部 a を示す点線を地図中から選び、ア~エの記号で答えよ。
- 問7 下線部 b を地図中から選び、①~④の記号で答えよ。
- 問8 下線部 c を示す写真としてふさわしくないものを次から選び、ア~エの記号で答えよ。



ア



イ



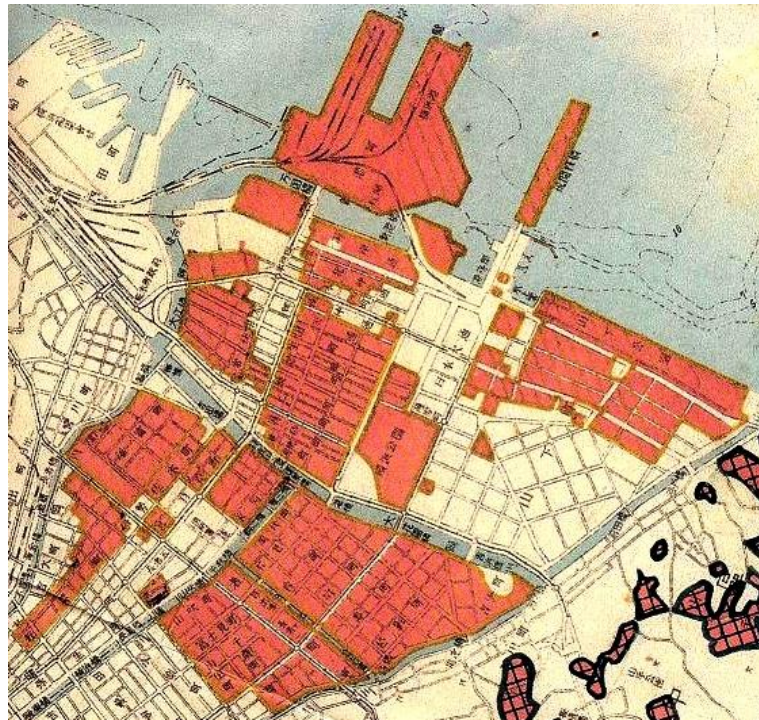
ウ

留学のため日本へ旅行する者であることを証明する。
 一九六〇年二月十九日



エ

問 9 サンフランシスコ平和条約締結の翌年の地図からわかることについて述べた次の文X, Yについて、現在の横浜の地図も参考にして、正しいものの組み合わせとして正しいものを次から選び、記号で答えよ。



1952年の横浜（「横浜市史Ⅱ資料編7戦災復興と都市計画」）

※濃い部分は米軍接收地を示している。



現在の横浜（google map）

X サンフランシスコ平和条約締結後も、米軍接收地が市内に残っていた。

Y 現在の中華街や赤レンガ倉庫も、米軍に接收されていた。

ア. X 正 Y 正 イ. X 正 Y 誤

ウ. X 誤 Y 正 エ. X 誤 Y 誤

【 2 】 高度経済成長期の日本について、次の問いに答えよ。

【資料活用の技能】

高度経済成長期の 1964 年には a オリンピック、1970 年には b 万国国際博覧会が開催され、これらは経済・文化面での日本の発展を世界に示す国家的イベントとなった。

高度経済成長が達成される一方で、農山漁村での や、大都市での 、交通渋滞や騒音・大気汚染など、深刻な社会問題が生み出された。特に、公害対策は経済成長を優先したために進まず、公害病に苦しむ被害者も放置されたままとなり、c 四大公害訴訟に発展した。

1972年、d 列島改造政策を打ち出し、公共投資を拡大した。その結果、土地や株式への投機がおこり、地価が暴騰した。これに第1次石油危機による原油価格の高騰が重なって、激しい が発生し、経済成長がマイナスとなり高度経済成長時代は終焉を迎えた。

問1 下線部aが1964年に開催された場所を、下の地図ア～オから選び、記号で答えよ。

問2 下線部bが1970年に開催された場所を、下の地図ア～オから選び、記号で答えよ。

問3 ～ にあてはまる語句の組み合わせとして正しいものを選び、記号で答えよ。

ア. X 過密化 Y 過疎化 Z インフレ

イ. X 過疎化 Y 過密化 Z インフレ

ウ. X 過密化 Y 過疎化 Z デフレ

エ. X 過疎化 Y 過密化 Z デフレ

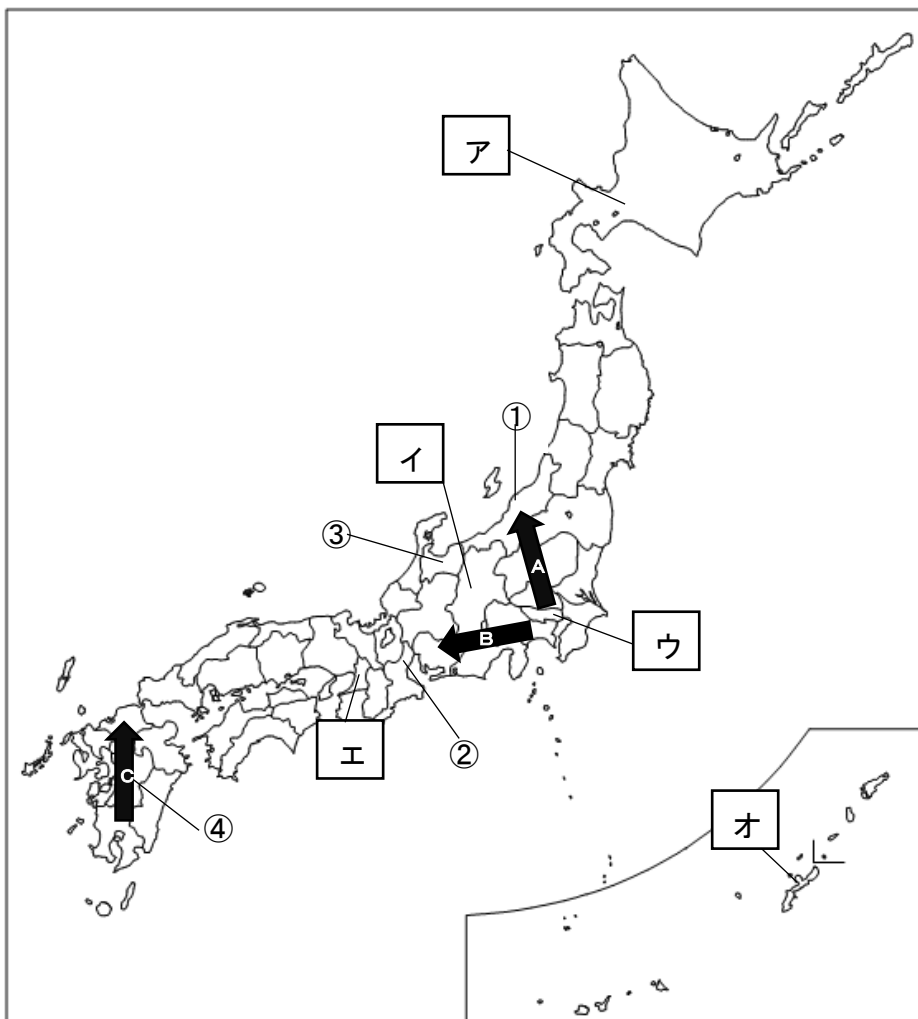
問4 下線部cについて、以下の問いに答えよ。

(1) カドミウムが体内に摂取することによって、骨がもろくなるという健康被害をもたらした公害が起きた場所を下の地図①～④から選び、記号で答えよ。また、この公害が引き起こした病名を答えよ。

(2) 亜硫酸ガスによるぜん息被害をもたらした公害が起こった場所を下の地図①～④から選び、記号で答えよ。また、この公害が引き起こした病名を答えよ。

問5 下線部dを打ち出した総理大臣を答えよ。また、その政策により整備された新幹線・高速道路を地図中の矢印A～Cから選び、記号で答えよ。

地図



解答

【 1 】 問 1 エ 問 2 1951 年 問 3 吉田茂 問 4 (甲) C (乙) A 問 5 ポーツマス
問 6 ウ 問 7 ③ 問 8 エ 問 9 イ

【 2 】 問 1 ウ 問 2 オ 問 3 イ
問 4 (1) 記号 : ③ 病名 : イタイイタイ病 (2) 記号 : ② 病名 : 四日市ぜんそく
問 5 総理大臣 : 田中角栄 記号 : A

出典

【 1 】 問 8 ア 沖縄タイムズ
イ 沖縄県公文書館
ウ 糸満市「市史だより 150 (「広報いとまん」平成 19 年 6 月号)
本土行きの「パスポート」から」
エ ハーバービジネスオンライン <https://hbol.jp/201512>
問 9 「横浜市史Ⅱ資料編 7 戦災復興と都市計画」