

【 1 】 つぎの図版A～Dについて問に答えよ。

【資料活用の技能】【知識・理解】



1. それぞれの図版の内容について説明した文の ( ) ①～④に適語を記せ。

【知識・理解】【資料活用の技能】

- A. 米東インド艦隊司令長官 ( ① ) が再び来航し、神奈川沖に停泊した様子を見物する人々を描いた『黒船来航風俗絵巻』の一部。この場面は、子安村の海岸の茶店の様子を描いている。
- B. 前土佐藩主 ( ② ) の建白により、徳川慶喜が諸藩重臣に政権の朝廷への返上を諮問した場面。これにより薩長両藩らは武力倒幕の名分を失った。
- C. 前年の ( ③ ) 藩による砲撃事件の報復のため、英・仏・蘭・米の4カ国の連合艦隊が砲台を砲撃、占領した事件をイギリス人ベアトが撮影したもの。
- D. 天保の飢饉で米価が高騰する中、蜂起した ( ④ ) の町奉行所与力時代から処刑までを挿絵入りで描いた『出潮引汐奸賊聞集記』で、この場面のように市中の20%が焼失したといわれる。

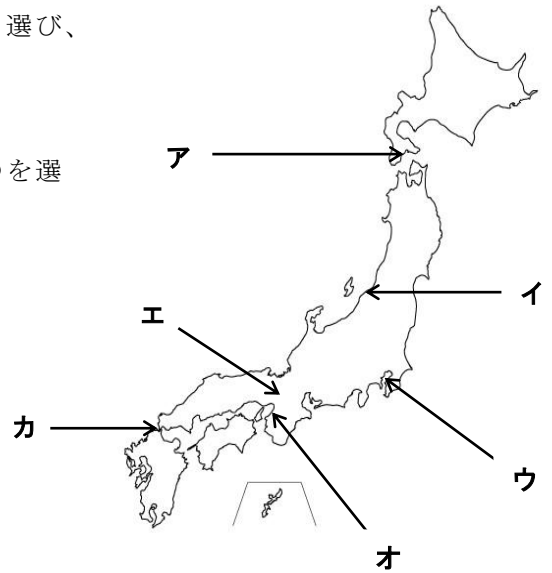
2. 図版A～Dに描かれたできごとが起こった場所を地図上から選び、記号で答えよ。

【思考・判断・表現】【資料活用の技能】

3. 図版A～Dに描かれたできごとを時代の古い順に並べたものを選び、記号で答えよ。

【知識・理解】【資料活用の技能】

- ア. A-D-B-C    イ. D-A-C-B  
 ウ. D-C-B-A    エ. A-C-D-B



【 2 】 つぎの年表中の a～h について問に答えよ。

年	事 項
1859	a <u>神奈川・長崎・函館の開港</u>
1863	b <u>八月十八日の政変</u>
1866	c <u>改税約書締結</u> d <u>五箇条の御誓文</u>
1871	e 派遣
1872	官営 f 開業
1877	g <u>西南戦争終結</u>
1881	h <u>国会開設の勅諭</u>

1. a による大量の金の海外流出の対策として幕府が発行したものを選び、記号で答えよ。

【思考・判断・表現】【資料活用の技能】



2. **b** について述べた文として正しいものを選び、記号で答えよ。【知識・理解】

- ア. 薩摩・会津両藩が朝廷内の公武合体派公家とともに朝廷内の実権を掌握し、長州藩勢力と尊王攘夷派の三条実美ら急進公家を京都から追放した。
- イ. 復古的攘夷主義を掲げる熊本の不平士族が反乱をおこし熊本鎮台を襲撃し、これに呼応して福岡県や山口県萩で不平士族の武装蜂起があいついでおこった。
- ウ. イギリス流の議院内閣制の早期導入や国会開設、憲法制定に急進的な参議大隈重信を罷免し、欽定憲法制定と国会開設の勅諭を出して、10年後の国会開設を公約した。
- エ. 通商条約の違勅調印など大老井伊直弼による専制に反対する徳川斉昭、一橋慶喜ら大名を抑え、越前藩士橋本佐内ら多数の家臣たちを処断、弾圧した。 **I**

3. **c** について述べた文として **誤っているもの** を選び、記号で答えよ。【知識・理解】

- ア. 安政の五カ国条約を改定したものである。
- イ. 平均 20% の輸入関税を一律 5% に引き下げた。
- ウ. 課税方法は従価税から従量税になった。
- エ. 開港が延期されていた兵庫の開港が勅許された。

4. **d** の原案起草や修正に **関係していない人物** を選び、記号で答えよ。【知識・理解】

- ア. 大久保利通      イ. 福岡孝弟
- ウ. 木戸孝允      エ. 由利公正

5. **e** にあてはまる語を図版 **I** を参考に記せ。

【知識・理解】【資料活用の技能】

6. **f** にあてはまる語を図版 **II** を参考に記せ。

【知識・理解】【資料活用の技能】



7. g に関する図版としてあてはまるものを選び、記号で答えよ。

【資料活用の技能】【思考・判断・表現】

ア




イ



ウ


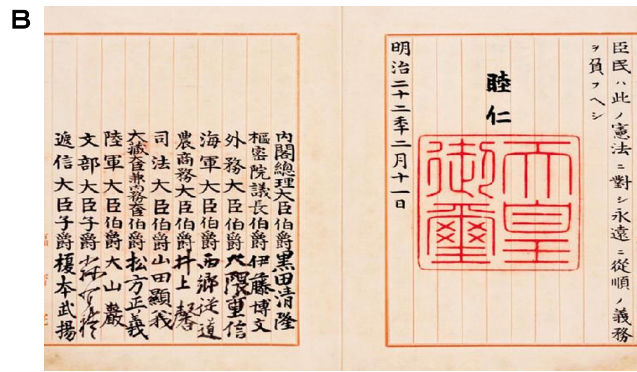



エ



8. h に関わる図版 A～D を時代の古い順に並べたものを選び、記号で答えよ。

【資料活用の技能】【思考・判断・表現】



ア. A-D-C-B    イ. C-B-D-A    ウ. C-D-B-A    エ. A-C-D-B

【 3 】 つぎの地券について問に答えよ。



問1 文中の【①】～【⑥】に適する語句・数字を記せ。【知識・理解】

明治新政府にとって、不安定な財政の基礎を確立することが緊急の課題であった。1872年に【①】の禁を解除し、1873年には地租改正条例を公布して、図版のような地券を交付した。改正の要点は、(1)課税の基準を、旧年貢が課税基準を収穫高としたのに対して【②】とし、(2)税率は、豊凶にかかわらず一律に【②】の【③】%とし、(3)納税は現物納から【④】とする。(4)地租は、地券を交付された土地所有者が納める、などであった。しかし、農民の租税負担軽減にはならず、地主と小作農への農民層の分解が進んだ。こうした状況は、農村での【⑤】制への動きをうながした。しかし、各地で大規模な改正反対一揆が発生したため、政府は地租を【⑥】%とした。

問2 上の地券からつぎの事項を読みとりなさい。【興味・関心】【資料活用の技能】

- ア.** 耕地の所在地（何国何郡）      **イ.** 耕地の面積      **ウ.** 地価  
**エ.** 地租(1877(明治十)年まで)      **オ.** 地券の発行者

問3 この地券が発行された年のできごととして正しいものを選び、記号で答えよ。【知識・理解】

- ア.** 財閥の解体      **イ.** 日本銀行の設立      **ウ.** 金解禁の実施      **エ.** 相对済し令の発布

## 解答

## 【1】計14点

1. ①ペリー ②山内豊信(容堂) ③長州 ④大塩平八郎 (各2点×4)
2. A-ウ B-エ C-カ D-才 (各1点×4)
3. イ (2点)

## 【2】計11点

1. ア (1点)
2. ア (1点)
3. エ (1点)
4. ア (1点)
5. 岩倉使節団 (2点)
6. 富岡製糸場 (2点)
7. イ (1点)
8. ウ (2点)

## 【3】計24点

- 問1 ①田畑永代売買 ②地価 ③3 ④金納 ⑤寄生地主 ⑥2.5 (各2点×6)
- 問2 ア.越後国西蒲原郡 イ.3畝13歩 ウ.10円24銭4厘  
エ.30銭7厘 オ.新潟県 (各2点×5)
- 問3 イ (2点)