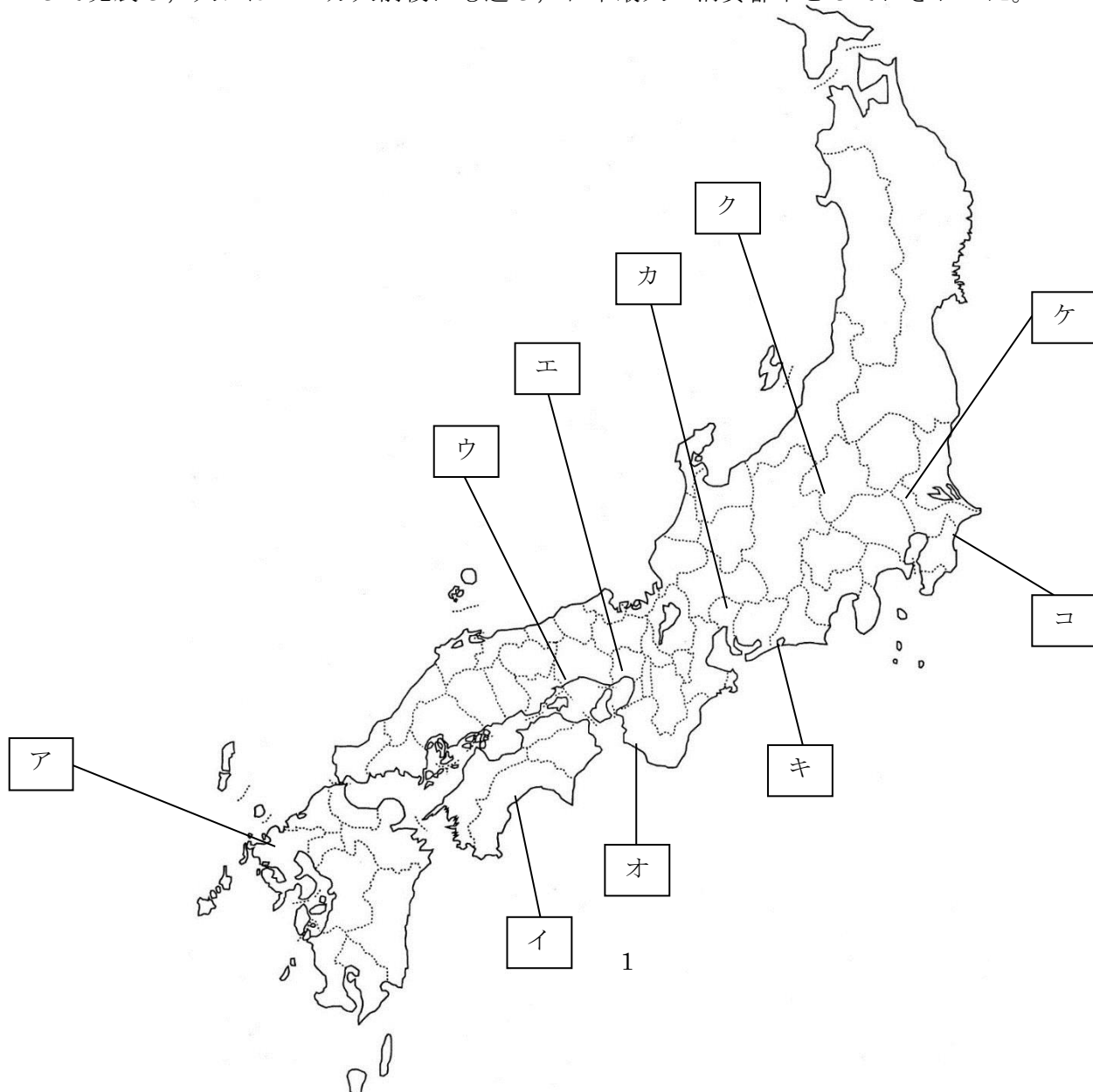


【 1 】 次の文は江戸時代の産業について述べた文である。これを読んで問いに答えよ。(20 点満点)

漁業では網を用いる上方漁法がしだいに全国に広まって、重要な産業となった。とくに①九十九里浜の鰯漁，②土佐の鯉漁，肥前や③紀伊の鯨漁が名高い。また，製塩業では④赤穂など瀬戸内海沿岸で入浜塩田がひらかれて，塩が量産され各地に流通した。手工業では，伝統的な絹織物，京都で高級品の〔 A 〕織を生産した。このほか，⑤灘・伊丹の清酒醸造，銚子や⑥野田の醤油醸造，⑦有田・⑧瀬戸の陶磁器などが生産された。

幕府は江戸から京都・大坂や各地の城下町に通じる X 五街道や脇街道を整備し，宿駅には大名の宿泊のための〔 B 〕や旅籠屋，人馬継立てや飛脚の業務を扱う〔 C 〕などを設けて交通の便をはかった。東海道の箱根・⑨新居，中山道の⑩碓氷・木曾福島などの要所に〔 D 〕がおかれ，武器や人質である大名の妻子の移動を警戒した。物資の大量輸送には水上交通が適していた。17 世紀後半になると沿岸の港が整備され，Y 東廻り海運・西廻り海運が発達した。これにより大坂と江戸は全国の物資の大集散地となり，両地を結ぶ南海路には〔 E 〕が往復した。

人と物の流れが活発になるなかで，Z 城下町・港町・門前町・鉱山町・宿場町など，さまざまな性格の都市が各地にうまれた。なかでも京都・大坂と江戸は三都とよばれて，とくに発達した。18 世紀の初めには伝統と文化の都市京都と，「〔 F 〕」と称された商人の都市大坂は，ともに 40 万人近い人口をかかえていた。同じころ「〔 G 〕」の江戸は，武士の都市として発展し，人口は 100 万人前後にも達し，日本最大の消費都市としてにぎわった。



問1 文中下線部①～⑩の位置を次の地図中から選び、記号で答えよ。【知識理解】

問2 [A]・[B]にあてはまる語の組合せとして正しいものを選び、記号で答えよ。

【思考・判断】

- | | | | |
|---------|------|---------|------|
| ア. A-本陣 | B-西陣 | イ. A-西陣 | B-本陣 |
| ウ. A-祇園 | B-西陣 | エ. A-本陣 | B-祇園 |

問3 [C]・[D]にあてはまる語の組合せとして正しいものを選び、記号で答えよ。

【思考・判断】

- | | | | |
|-----------|---------|------------|--------|
| ア. C - 陣屋 | D - 関所 | イ. C - 問屋場 | D - 陣屋 |
| ウ. C - 陣屋 | D - 問屋場 | エ. C - 問屋場 | D - 関所 |

問4 [E]にあてはまる語の組合せとして正しいものを選び、記号で答えよ。

【思考・判断】

- | | |
|-------------|-------------|
| ア. 菱垣廻船・北前船 | イ. 樽廻船・内海船 |
| ウ. 北前船・内海船 | エ. 菱垣廻船・樽廻船 |

問5 [F]・[G]にあてはまる語の組合せとして正しいものを選び、記号で答えよ。

【思考・判断】

- | | | | |
|-----------|-----------|------------|-----------|
| ア. F天下の台所 | G将軍のお膝元 | イ. F天下の奥座敷 | G将軍のお膝元 |
| ウ. F天下の台所 | G将軍のお声かかり | エ. F天下の奥座敷 | G将軍のお声かかり |

問6 波線部Xについて、これを管理した幕府の役職名を選び、記号で答えよ。

【思考・判断】

- | | | | |
|---------|---------|---------|---------|
| ア. 普請奉行 | イ. 道中奉行 | ウ. 勘定奉行 | エ. 寺社奉行 |
|---------|---------|---------|---------|

問7 波線部Yについて、この航路を整備した人物として正しい者を選び、記号で答えよ。

【知識・理解】

- | | | | |
|-----------|---------|---------|---------|
| ア. 茶屋四郎次郎 | イ. 角倉了以 | ウ. 今井宗薫 | エ. 河村瑞賢 |
|-----------|---------|---------|---------|

問8 波線部Zについて、問いに答えよ。【知識・理解】

i 城下町に**あてはまらない都市**を選び、記号で答えよ。

- | | | | |
|-------|-------|-------|--------|
| ア. 江戸 | イ. 京都 | ウ. 大坂 | エ. 名古屋 |
|-------|-------|-------|--------|

ii 港町に**あてはまらない都市**を選び、記号で答えよ。

- | | | | |
|-------|-------|-------|-------|
| ア. 下田 | イ. 長崎 | ウ. 箱館 | エ. 金沢 |
|-------|-------|-------|-------|

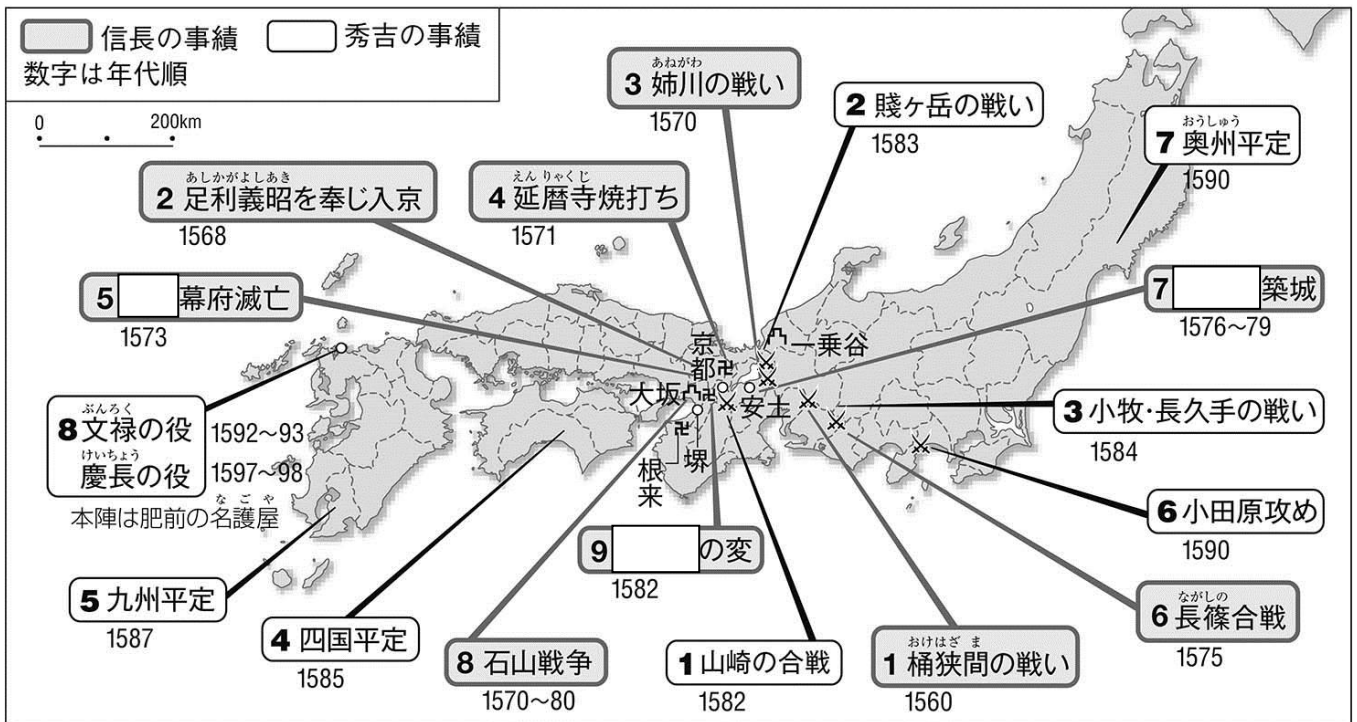
iii 門前町に**あてはまらない都市**を選び、記号で答えよ。

- | | | | |
|--------|---------|-------|-------|
| ア. 鹿児島 | イ. 宇治山田 | ウ. 長野 | エ. 奈良 |
|--------|---------|-------|-------|

iv 鉾山町に**あてはまらない都市**を選び、記号で答えよ。

- | | | | |
|-------|-------|-------|-------|
| ア. 博多 | イ. 足尾 | ウ. 相川 | エ. 生野 |
|-------|-------|-------|-------|

【 2 】 次の図は織田信長・豊臣秀吉の事績を示した地図である。図をみて問いに答えよ。(15 点満点)



問 1 5 7 9 にあてはまる語を答えよ。【知識・理解】

問 2 信長と一向一揆衆との戦いを選び答えよ。【思考・判断】

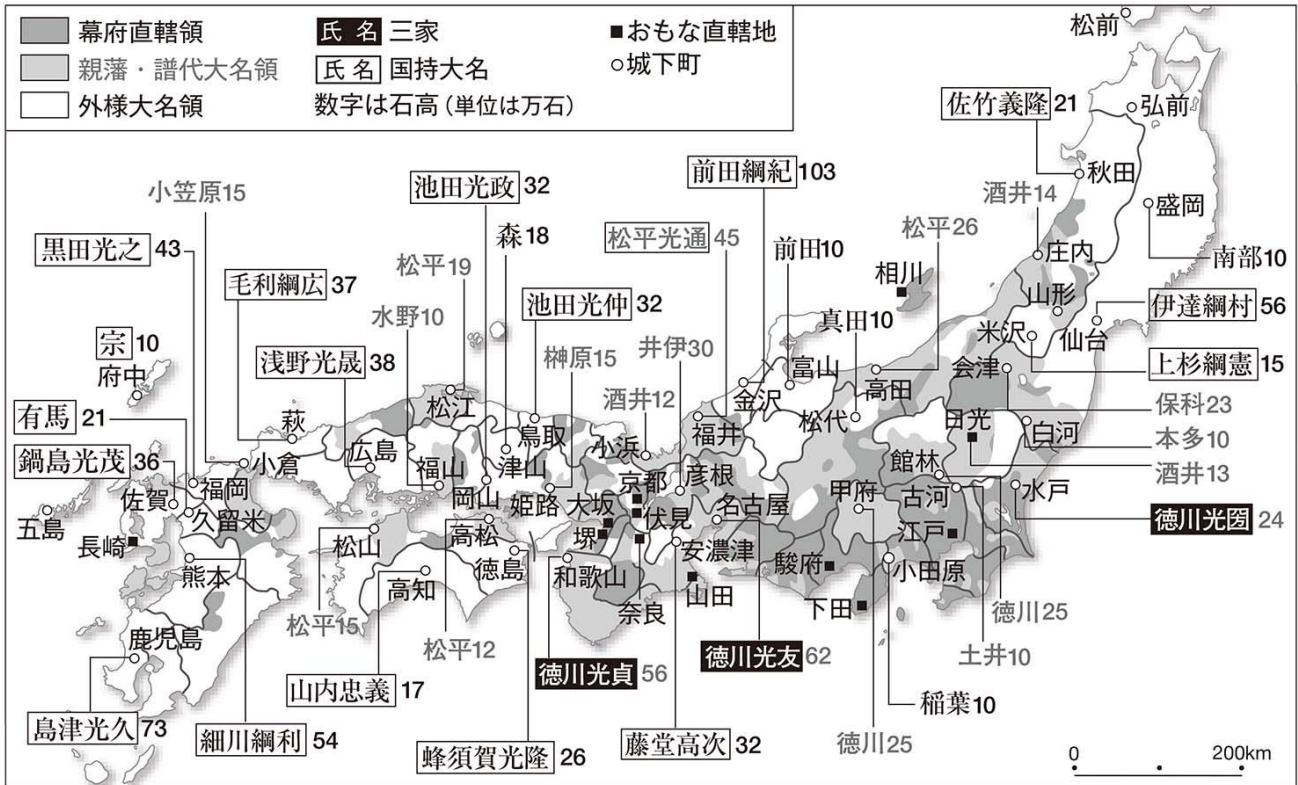
問 3 信長が鉄砲を大量使用して武田勝頼に勝利した戦いを選び答えよ。【思考・判断】

問 4 信長の死後、秀吉が後継争をして柴田勝家に勝利した戦いを選び答えよ。【思考・判断】

問 5 秀吉の死去により中止となった戦いを選び答えよ。【思考・判断】

問 6 秀吉による関東平定と九州平定はどちらが早いかな答えよ。【思考・判断】

【 3 】 次の図は 1664 年頃の大名配置図である。これをみて問いに答えよ。(15 点満点)



問 1 次の 1～7 の文について、内容が正しければ A、誤っていれば B と答えよ。【思考・判断】

- 1 三家は將軍家の親藩であり、紀伊の徳川光貞、尾張の徳川光友、水戸の徳川光圀がある。
- 2 最大の石高を持つ大名は、加賀の前田綱紀の 103 万石である。
- 3 外様大名のうち、長門に島津、薩摩に毛利、陸奥に伊達が配置されている。
- 4 江戸の近くの関東八州には、50 万石を超える大名は配置されていない。
- 5 戦国大名の系譜を引く大名はまったく見当たらない。
- 6 親藩・譜代大名は関ヶ原以西にも配置されている。
- 7 大名配置は親藩・譜代・外様の各大名が全国均等に配置されている。

問 2 幕府にとって長崎、伏見、山田、下田、日光などは重要な町であった。このために置かれた職名を選び記号で答えよ。【知識・理解】

- ア. 遠国奉行 イ. 大目付 ウ. 普請奉行 エ. 道中奉行

解答

【 1 】

問1

| | | | | | | | | | |
|---|---|---|---|---|---|---|---|---|---|
| ① | ② | ③ | ④ | ⑤ | ⑥ | ⑦ | ⑧ | ⑨ | ⑩ |
| コ | イ | オ | ウ | エ | ケ | ア | カ | キ | ク |

| | | | | | |
|----|----|----|----|----|----|
| 問2 | 問3 | 問4 | 問5 | 問6 | 問7 |
| イ | エ | エ | ア | イ | エ |

問8

| | | | |
|---|----|-----|----|
| i | ii | iii | iv |
| イ | エ | ア | ア |

【 2 】

問1

| | | |
|----|-----|-----|
| 5 | 7 | 8 |
| 室町 | 安土城 | 本能寺 |

| | | | | |
|------|------|--------|------|------|
| 問2 | 問3 | 問4 | 問5 | 問6 |
| 石山戦争 | 長篠合戦 | 賤ヶ岳の戦い | 慶長の役 | 九州平定 |

【 3 】

問1

| | | | | | | |
|---|---|---|---|---|---|---|
| 1 | 2 | 3 | 4 | 5 | 6 | 7 |
| A | A | B | A | B | A | B |

| |
|----|
| 問2 |
| ア |