

【 1 】 次の各文を読んで問いに答えよ。(10点満点)


- A. 法然は、ひたすらに ① をとなえれば極楽に生まれかわれると説いた。
- B. 栄西は坐禅のみずからきたえることで釈迦の境地に近づくとし、公家や幕府の保護をうけた。
- C. 親鸞は師法然の教えを進め、煩惱の深い人間こそが阿弥陀仏の救おうとする相手であると説いた。
- D. 道元は、ひたすら坐禅に徹せよと説いて、越前の永平寺を開いた。
- E. 日蓮は法華経こそ正しい教えだとし、 ② をとなえることで救われると説いた。
- F. 一遍は、すべての人が救われるとし、踊念仏によって教えを全国に広めた。

問1 ①・② にあてはまる語を答えよ。(知識理解)

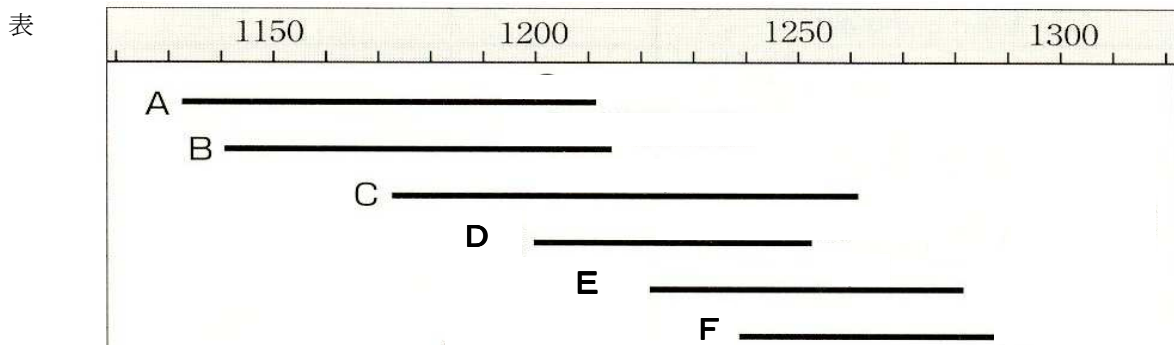
問2 上の各文と、宗派の組合せとして正しいものを選び、記号で答えよ。(思考判断・知識理解)

- あ. 文B－曹洞宗 文C－一向宗 文D－臨済宗    い. 文B－臨済宗 文C－一向宗 文D－曹洞宗
- う. 文B－曹洞宗 文C－臨済宗 文D－一向宗    え. 文B－臨済宗 文C－曹洞宗 文D－一向宗

問3 次にあげた図と最も関係の深い文を上から選び、アルファベットで答えよ。(資料活用)



問4 文A～Fは次の表A～Fを示している。表についての説明として正しいものを次から選び、記号で答えよ。(思考判断)



- あ. 信者数が多い順に並べたもの。
- い. それぞれの宗派に属する寺院数の多い順に並べたもの。
- う. 宗派として成立年代の古い順に並べたもの。
- え. 宗派として活動が活発な順に並べたもの。

解答

【 1 】 問1① 念仏 ② 題目

問2 い

問3 F

問4 う

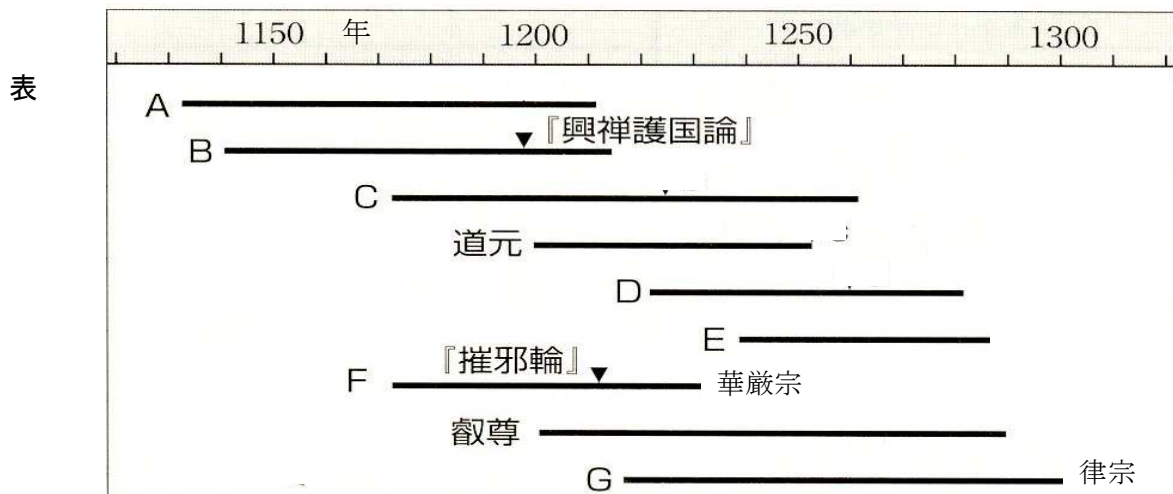
各2点 計10点

【 2 】 次の表を見て問いに答えよ。(24 点満点)

| 宗 派 | 開 祖   | 主 著   | 特 色  | 寺 院             |
|-----|-------|---|--|-----------------|
| U 宗 | [ 1 ] | 『 6 』                                       | もっぱら阿弥陀仏の誓いを信じ、<br>[ 10 ]をとさえれば、死後は平<br>等に極楽浄土に往生できるとい<br>う教えを説いた。                   | 知恩院<br>(京都)     |
| V 宗 | [ 2 ] | 『 7 』                                       | 煩惱の深い人間こそ、阿弥陀仏<br>が救ってくれるという悪人正機<br>を説いた。  | [ 12 ]寺<br>(京都) |
| W 宗 | [ 3 ] | 『 一 遍 上 人 語<br>録 』<br>死後門弟が師の語<br>類を集成したもの。 | 善人・悪人や信仰の有る無しに関<br>係なく、すべての人が救われると<br>いう教えを説き、踊念仏によって<br>多くの民衆に教えを広めながら、<br>各地に布教した。 | 清浄光寺<br>(神奈川)   |
| X 宗 | [ 4 ] | 『 8 』                                       | [ 11 ]をとさえすることで救<br>われると説いたが、他宗を激しく<br>攻撃しながら国難の到来を予言<br>したりして布教を進めたため、幕<br>府の迫害を受けた | [ 13 ]寺<br>(山梨) |
| Y 宗 | [ 5 ] | 『 興 禅 護 国 論 』                               | 坐禅によってみずからを鍛え、釈<br>迦の境地に近づくことを主張す<br>る教えで、宋に渡った [ 5 ]<br>によって日本に伝えられた。               | 建仁寺<br>(京都)     |
| Z 宗 | 道元    | 『 9 』                                       | ただひたすら坐禅に徹せよと説<br>いた。  | [ 14 ]寺<br>(福井) |

問1 表中 U ~ Z にあてはまる語を答えよ。(知識理解)

問2 表中 [ 1 ] ~ [ 5 ] にあてはまる僧は次の表 A ~ E のどれにあたるかをアルファベット  
で答えよ。(思考判断)



問3 前頁の表 F・G にあてはまる僧侶の組合せとして正しいものを選び記号で答えよ。

(知識理解)

- ア. F 蓮如      G 高弁(明恵)                      イ. F 高弁(明恵)      G 忍性  
 ウ. F 忍性      G 高弁(明恵)                      エ. F 蓮如              G 忍性

問4 前頁の表『6』『7』にあてはまる書名の組合せとして正しいものを選び、記号で答えよ。(知識理解)

- ア. 『6』－正法眼蔵 『7』－歎異抄                      イ. 『6』－正法眼蔵 『7』－教行信証  
 ウ. 『6』－選択本願念仏集 『7』－教行信証      エ. 『6』－選択本願念仏集 『7』－歎異抄

問5 前頁の表『8』『9』にあてはまる書名の組合せとして正しいものを選び、記号で答えよ。(知識理解)

- ア. 『8』－立正安国論 『9』－正法眼蔵                      イ. 『8』－立正安国論 『9』－歎異抄  
 ウ. 『8』－正法眼蔵 『9』－歎異抄                      エ. 『8』－歎異抄 『9』－正法眼蔵

問6 前頁の表[10]・[11]にあてはまる語と唱えるものの組合せとして正しいものを選び下から記号で答えよ。(思考判断)

あてはまる語 : I 題目                      II 念仏

唱えるもの : 甲 南無阿弥陀仏      乙 南無妙法蓮華経

- ア. [10]: I－甲      [11]: II－乙                      イ. [10]: II－乙      [11]: I－甲  
 ウ. [10]: I－乙      [11]: II－甲                      エ. [10]: II－甲      [11]: I－乙

問7 前頁の[12]～[14]にあてはまる寺の組合せとして正しいものを、次から選び記号で答えよ。(知識理解)

- ア. [12]本願寺 [13]久遠寺 [14]永平寺                      イ. [12]永平寺 [13]久遠寺 [14]本願寺  
 ウ. [12]久遠寺 [13]永平寺 [14]本願寺                      エ. [12]本願寺 [13]永平寺 [14]久遠寺

問8 次の文 I・II について、前頁の表 



 ～ 



 に最も関係の深いものをアルファベットで答えよ。(資料活用)

I 「善人なをもちて往生をとぐ、いはんや悪人をや。しかるを、世のひとつねにいはいはく、  
 『悪人なを往生す、いかにいはんや善人をや』と。

II 一日 驛問云、「叢林ノ勤学ノ行履ト云ハ如何。」示云ク、只管打坐也。或ハ閣上、或ハ楼下  
 ニシテ、常坐ヲイトナム。人ニ交リ物語ヲセズ、聾者ノ如ク鼻者ノ如クニシテ、常ニ独坐ヲ  
 好ム也。

解答

【 2 】 問1 U浄土宗 V浄土真宗 W時宗 X日蓮宗 Y臨濟宗 Z曹洞宗

問2 1A 2C 3E 4D 5B

問3 イ

問4 ウ

問5 ア

問6 エ

問7 ア

問8 I V II Z

問1各2点 問2～問8各1点 各1点 計24点

【 3 】 次の各文を読んで問いに答えよ。(10点満点)

源平の争乱で焼けおちた奈良の東大寺はA 朝廷や源頼朝の援助をうけて復興された。その際B 大仏様という豪放・雄大さを特色とする建築様式が宋からとりいれられた。また仏像彫刻は奈良仏師の運慶や快慶らが力強く写実的な作品をうみ出した。運慶・快慶の合作といわれる東大寺の[ ]はその例である。鎌倉中期になるとC 禅僧の来日にともなつて、整然とした美しさの特徴とするD 禅宗様という建築様式がもたらされた。禅宗様は、その後多くの禅寺で用いられた。

絵画では、絵巻物が平安時代末期から続いて発達し、E 寺社の縁起、高僧の伝記、合戦やF 武士の生活などを題材にしたものが盛んに描かれこの最盛期をむかえた。G 似絵とよばれる写実的な肖像画も描かれこの時代の個性に対する高い関心を示している。

問1 [ ]にあてはまる作品を下の図群から選び記号で答えよ。(資料活用)

問2 文中下線部Aについて、勸進上人となつて活躍した僧を次から選び記号で答えよ。(知識理解)

- ア 重源                      イ 空海                      ウ 鑑真                      エ 行基

問3 文中下線部Bを示す図を下の図群から選び記号で答えよ。(資料活用)

問4 文中下線部Cにあたる僧を次から選び記号で答えよ。(知識理解)

- ア 無学祖元                  イ 琵琶法師                  ウ 恵心僧都                  エ 北条実時

問5 文中下線部Dを示す図を下の図群から選び記号で答えよ。(資料活用)

問6 文中下線部Eを示す図を下の図群から選び記号で答えよ。(資料活用)

問7 文中下線部Fを示す図を下の図群から選び記号で答えよ。(資料活用)

問8 文中下線部Gを示す図を下の図群から選び記号で答えよ。(資料活用)



解答

【 3 】

問 1 ア

問 2 ア

問 3 エ

問 4 ア

問 5 カ

問 6 キ

問 7 ク

問 8 才

問 1・3 2点 左記以外各 1点 計 10点



【 4 】 次の文を読んで各問いに答えよ。(20 点満点)

南北朝時代、北畠親房は、南朝の皇統の正統性を論じた歴史書『[ A ]』を著した。軍記物語では南北朝動乱をえがいた『[ B ]』が有名である。

3 代将軍足利義満のころの文化は、義満が京都の北山の別荘にたてた華麗な【 ① 】に代表されるので、北山文化とよばれる。幕府は武家社会に広まった[ C ]を保護し、五山・十刹の制をととのえた。これは南宋の制度にならったもので、[ D ]を別格として五山の上におき、[ E ]は天竜寺・相国寺などの5寺、[ F ]は建長寺・円覚寺などの5寺であった。こうして五山を中心に中国文化の影響をうけた文化がうまれた。(a)五山の僧は政治・外交顧問として活動するものも多かった。禅の境地をえがく【 ② 】も、このころからさかんとなった。【 ③ 】もまた北山文化を代表するものであった。【 ③ 】ははやくから寺社の保護のもとに座を結成していたが、奈良興福寺を本所とした[ G ]から14世紀末ごろに出た観阿弥・世阿弥父子は、義満の保護を得て、芸術性の高い【猿楽 ③】を完成した。その理念は世阿弥の『[ H ]』に示されている。

応仁の乱後、8 代将軍足利義政は京都の東山に山荘をつくり、ここに【 ④ 】をたてた。この下層にみられる【 ⑤ 】は、近代和風住宅のもととなった。【 ⑤ 】の住宅にはそれに調和する庭園がつくられたが、とくに竜安寺の石庭などの【 ⑥ 】は禅の精神を形に示したものといえよう。義政は【 ⑤ 】の一室に花をかざり、【 ② 】を床の間にかけてたり、襖/ふすまに絵をえがかせ、静かに茶をたて趣味の生活にひたった。墨だけの一色の濃淡でえがく【 ② 】は、このころ[ I ]が出て日本的【 ② 】を大成した。茶を飲む習慣は禅宗の流行とともに鎌倉時代以後に広まっていたが、この時代、茶室で心静かにあじわう【 ⑦ 】がはじまり、のちに[ J ]によって完成された。

問1 【 ① 】～【 ⑦ 】に当てはまる語に最も関係のある図を次より選び、記号で答えよ。(資料活用)





キ



ク



ケ



コ



問2 [A][B]に当てはまる語の組合せとして正しいものを選び、記号で答えよ。(思考判断)

[A]: 1 梅松論      2 神皇正統記      [B]: 3 太平記      4 平家物語  
 ア 1-3      イ 1-4      ウ 2-3      エ 2-4

問3 [C][D]に当てはまる語の組合せとして正しいものを選び、記号で答えよ。(思考判断)

[C]: 1 臨濟宗      2 天台宗      [D]: 3 延暦寺      4 南禅寺  
 ア 1-3      イ 1-4      ウ 2-3      エ 2-4

問4 [E][F]に当てはまる語の組合せとして正しいものを選び、記号で答えよ。(思考判断)

[E]: 1 京都五山      2 鎌倉五山      [F]: 3 鎌倉五山      4 京都五山  
 ア 1-3      イ 1-4      ウ 2-3      エ 2-4

問5 [G][H]に当てはまる語の組合せとして正しいものを選び、記号で答えよ。(思考判断)

[G]: 1 観世座      2 歌舞伎座      [H]: 3 風姿花伝      4 東海道四谷怪談  
 ア 1-3      イ 1-4      ウ 2-3      エ 2-4

問6 [I][J]に当てはまる語の組合せとして正しいものを選び、記号で答えよ。(思考判断)

[I]: 1 雪舟      2 狩野正信      [J]: 3 村田珠光      4 千利休  
 ア 1-3      イ 1-4      ウ 2-3      エ 2-4

問7 下線部(a)に**あてはまらない僧**を選び、記号で答えよ。(思考判断)

ア 隠元隆琦      イ 夢窓疎石      ウ 義堂周信      エ 絶海中津

解答

【 4 】 問1 ①オ ②カ ③イ ④キ ⑤ア ⑥コ ⑦エ

問2 ウ

問3 イ

問4 ア

問5 ア

問6 イ

問7 ア

問1 2点 左記以外各1点 計20点



問7 下線部(b)について次の資料が示す一揆名を答えよ。(知識理解)

しゅくわせいどうかた 叔和 いわ 西堂 語りて云く。今月五日越前府中ふちゆう に行く。それ以前越前の合力ごうりきぜい 勢賀州おもむ に赴く。

しかりといえども、一揆衆二十万人、富樫城ま ゆえ もつ を取り回く。故を以て、同九日城を攻め落さる。

問8 下線部(c)について、一揆を結んだ信者が延暦寺と対立し一時京都を追われた事件名を答えよ。(知識理解)

解答

【 5 】

問 1 エ

問 2 ウ

問 3 ア

問 4 ア

問 5 エ

問 6 エ

問 7 加賀の一向一揆

問 8 天文法華の乱

問 1 ～ 問 6 各 1 点 左記以外各 2 点 計 10 点