

【地図を使用した問題】（難易度：中）

次の1～5の各文章は古代オリエント世界に成立した国家や王朝に関するものである。よく読んで、後の問に答えなさい。

- 1 前19世紀初めメソポタミアに侵入したアムル人が建国した王国である。第6代の  王は全メソポタミアを統一し、「目には目を、歯には歯を」で有名な  法典を制定した。前16世紀初め、ヒッタイトに滅ぼされた。
- 2 前17世紀半ば、小アジアに成立した  語系民族による初めての国家といわれる。ミタンニ王国を服属させ、さらに地中海東岸に進出してエジプト王国と争った。馬と戦車を用い、鉄製武器を使用したとされる。
- 3 前16世紀前半、ヒクソスを追放してナイル川流域に成立したが、シリア・パレスチナ方面にも進出し、ヒッタイト・ミタンニ・カッシートなどと争った。前14世紀後半の王  は唯一神アトンの信仰を強制する宗教改革を行い、都をテル=エル=アマルナに移した。
- 4 小アジアとメソポタミアを結ぶ交易で台頭したセム系民族の国家で、前9世紀頃から遠征を行い、前7世紀前半にはエジプトを含む、全オリエントを統一した。強制移住政策を行い、重税を課したため、諸民族の抵抗が高まり、新バビロニアとメディアにより都  を攻略され、滅んだ。
- 5 前6世紀半ば、ペルシア人がメディアを滅ぼし、イラン高原を中心に建国した。リディア・新バビロニア(カルデア)を滅ぼして領土を拡大、第3代のダレイオス1世の時代には東はインダス川、西はエーゲ海北岸にいたる大帝國を建設した。前5世紀に3回にわたる  への遠征を行ったが、失敗に終わった。

問1 1～5の国家・王朝の名称を選びなさい。

- ア エジプト古王国            イ エジプト中王国            ウ エジプト新王国            エ ヒッタイト王国  
オ アッシリア帝国(王国)    カ カッシート王国            キ バビロン第1王朝(古バビロニア王国)  
ク 新バビロニア王国(カルデア王国)            ケ アケメネス朝            コ ササン朝

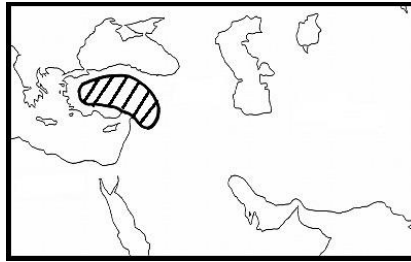
問2 文章中の  にあてはまる最も適切な語句を記しなさい。

問3 1～5の国家・王朝のおおよその最大領域を示した略地図を下から選びなさい。

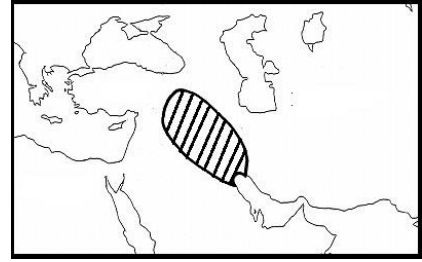
A



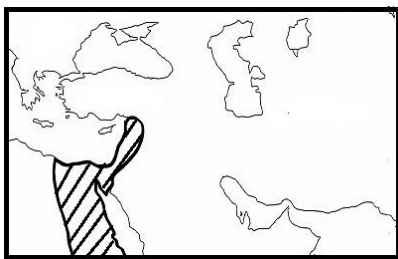
B



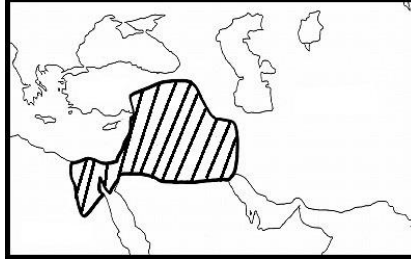
C



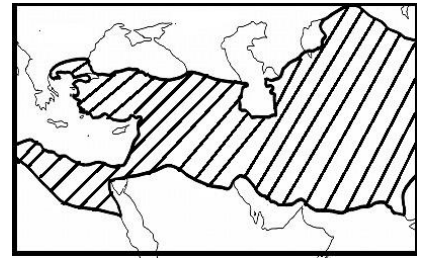
D



E



F



【解答】

問1 1…キ 2…エ 3…ウ 4…オ 5…ケ

問2 A…ハンムラビ B…インド=ヨーロッパ(印欧) C…アメンホテプ4世  
D…ニネヴェ E…ギリシア

問3 1…C 2…B 3…D 4…E 5…F

【配点】合計30点

問1 各2点×5=10点

問2 各2点×5=10点

問3 各2点×5=10点